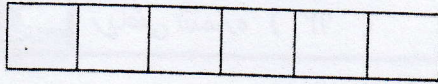
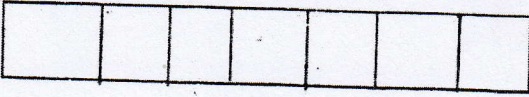


۴- برای هر عدد از مداد رنگی استفاده کن و با رنگ کردن جواب جمع را به دست آور.



$$1 + 3 + 2 = \underline{\quad}$$





$$2 + 3 + 1 = \underline{\quad}$$




$$2 + 2 + 2 = \underline{\quad}$$


۴- اندازه هر شکل چند تا شکل کوچک است.




اندازه‌ی نی کسی بلندتر از  است.



اندازه‌ی مداد کسی بلندتر از  است.



اندازه‌ی مداد کسی بلندتر از  است.

۵- جمع‌های زیر را انجام بده.

$$2 + 3 =$$

$$5 + 0 =$$

$$3 + 2 =$$

$$1 + 7 =$$

$$4 + 0 =$$

$$2 + 4 =$$

$$4 + 1 =$$

$$8 + 1 =$$

$$7 + 1 =$$

$$5 + 3 =$$

$$0 + 8 =$$

$$4 + 4 =$$

$$7 + 0 =$$

$$5 + 4 =$$

$$2 + 7 =$$

$$3 + 4 =$$

۶- تفریق‌های زیر را انجام بده.

$$5 - 2 =$$

$$9 - 4 =$$

$$10 - 5 =$$

$$7 - 4 =$$

$$8 - 5 =$$

$$9 - 9 =$$

$$5 - 2 =$$